

Gospodarka Europy

Test sprawdzający – rozdział 4

imię i nazwisko	
klasa	data

Grupa A

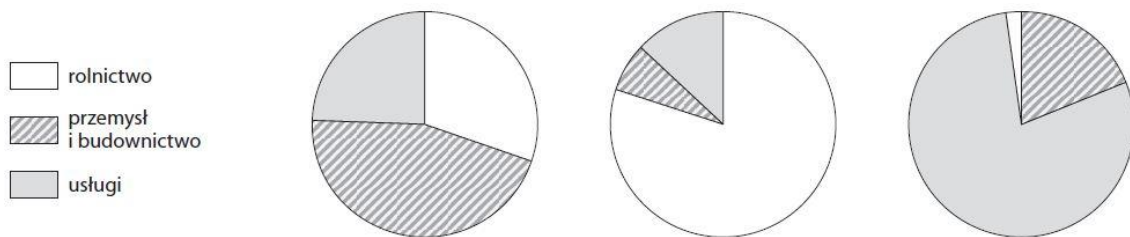
1. Podaj nazwę sektora gospodarki, którego dotyczy opis.

0–1 p.

Celem tego działu gospodarki jest zaspokajanie potrzeb ludzi, firm oraz organizacji.
Nie jest on związany z wytwarzaniem produktów.

2. Wykresy przedstawiają strukturę zatrudnienia w trzech państwach o różnym poziomie rozwoju gospodarczego. Zaznacz wykres przedstawiający strukturę zatrudnienia w kraju o najniższym poziomie rozwoju gospodarczego. Uzasadnij swój wybór.

0–2 p.



Uzasadnienie:

3. Uzupełnij tabelę dotyczącą warunków rozwoju rolnictwa i jego cech w Danii i na Węgrzech.
Wpisz znak X we właściwych komórkach.

0–3 p.

Warunki rozwoju rolnictwa i jego cechy	Dania	Węgry
Klimat umiarkowany ciepły morski.		
Bardzo żyzne czarnoziemy.		
Wysoki poziom mechanizacji.		
Latem możliwe susze.		
Przewaga upraw zbóż (pszenicy, kukurydzy) i winorośli.		
Duże znaczenie hodowli bydła i produkcji mleka.		

4. Na podstawie poniższego tekstu wykonaj polecenia.

0-4 p.

Jest krajem bardzo wysoko rozwiniętym. Jego gospodarka opiera się na dogodnych warunkach naturalnych umożliwiających uprawę roślin, głównie pszenicy. Występowanie klimatu podzwrotnikowego w południowej części kraju sprzyja uprawie winorośli. Ten kraj słynie z produkcji win oraz serów. Na jego rozwój gospodarczy wpłynęły również bogate złoża surowców mineralnych, jednak współcześnie największe znaczenie ma produkcja samochodów, samolotów oraz wyrobów chemicznych i farmaceutycznych. Bardzo dobrze rozwinięte są tam również transport (kraj słynie z szybkich kolei), turystyka i telekomunikacja.

a) Podaj nazwę kraju, którego dotyczy powyższy opis.

b) Do podanych w tabeli sektorów gospodarki dopisz na podstawie tekstu po dwa rodzaje działalności.

Sektor gospodarki	Rodzaje działalności w opisywanym kraju
rolnictwo	
przemysł	
usługi	

5. Wymień cztery odnawialne źródła energii.

0-2 p.

1. _____ 3. _____
2. _____ 4. _____

6. Dopasuj rodzaje elektrowni do podanych opisów, a następnie podaj przykłady państw, w których większość energii wytwarza się takich elektrowniach.

0-3 p.

▪elektrownia cieplna ▪elektrownia słoneczna ▪elektrownia geotermalna ▪elektrownia wiatrowa

A. W elektrowniach tego rodzaju do produkcji energii wykorzystuje się ciepło pochodzące z wnętrza Ziemi.

Rodzaj elektrowni: _____ Państwo: _____

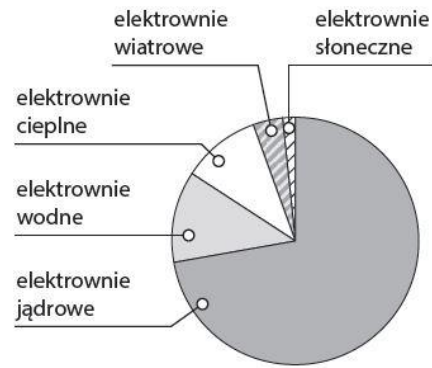
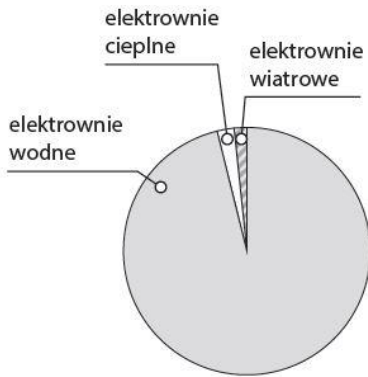
B. Elektrownie tego rodzaju do produkcji energii wykorzystują ruch powietrza. Lokalizuje się je głównie na wybrzeżach i w dolinach górskich.

Rodzaj elektrowni: _____ Państwo: _____

C. W takich elektrowniach wytwarza się energię dzięki spalaniu węgla kamiennego i węgla brunatnego.

Rodzaj elektrowni: _____ Państwo: _____

7. Rozpoznaj, na którym z poniższych diagramów przedstawiono strukturę produkcji energii we Francji, a na którym – w Norwegii. Podpisz diagramy nazwami tych państw. **0–2 p.**



Państwo: _____

Państwo: _____

8. Uzupełnij tabelę. Wpisz we właściwych kolumnach po dwa przykłady przyrodniczych i kulturowych walorów turystycznych oraz elementów infrastruktury turystycznej Europy Południowej. **0–3 p.**

Walory przyrodnicze	Walory kulturowe	Infrastruktura turystyczna
1.	1.	1.
2.	2.	2.